

ΑΡΧΗ 1ΗΣ ΣΕΛΙΔΑΣ - Α΄ ΕΣΠΕΡΙΩΝ

ΠΑΝΕΛΛΗΝΙΕΣ ΕΞΕΤΑΣΕΙΣ Α΄ ΤΑΞΗΣ  
ΕΣΠΕΡΙΝΟΥ ΓΕΝΙΚΟΥ ΛΥΚΕΙΟΥ  
ΠΑΡΑΣΚΕΥΗ 20 ΜΑΪΟΥ 2011  
ΕΞΕΤΑΖΟΜΕΝΟ ΜΑΘΗΜΑ: ΦΥΣΙΚΗ  
ΘΕΤΙΚΗΣ ΚΑΙ ΤΕΧΝΟΛΟΓΙΚΗΣ ΚΑΤΕΥΘΥΝΣΗΣ  
(ΚΑΙ ΤΩΝ ΔΥΟ ΚΥΚΛΩΝ)  
ΣΥΝΟΛΟ ΣΕΛΙΔΩΝ: ΕΞΙ (6)

**ΘΕΜΑ Α**

Στις ημιτελείς προτάσεις Α1-Α4 να γράψετε στο τετράδιό σας τον αριθμό της πρότασης και δίπλα το γράμμα που αντιστοιχεί στη φράση η οποία τη συμπληρώνει σωστά.

- Α1.** Σε μια φθίνουσα ταλάντωση, όπου η δύναμη που αντιτίθεται στη κίνηση είναι της μορφής  $F_{αντ} = -bv$ , όπου  $b$  θετική σταθερά και  $v$  η ταχύτητα του ταλαντωτή,
- α.** όταν αυξάνεται η σταθερά απόσβεσης η περίοδος μειώνεται.
  - β.** το πλάτος διατηρείται σταθερό.
  - γ.** η σταθερά απόσβεσης εξαρτάται από το σχήμα και το μέγεθος του αντικειμένου που κινείται.
  - δ.** η ενέργεια ταλάντωσης διατηρείται σταθερή.

**Μονάδες 5**

- Α2.** Σε αρμονικό ηλεκτρομαγνητικό κύμα που διαδίδεται με ταχύτητα  $\vec{v}$ , το διάνυσμα έντασης του ηλεκτρικού πεδίου είναι  $\vec{E}$  και το διάνυσμα έντασης του μαγνητικού πεδίου είναι  $\vec{B}$ . Θα ισχύει:

- α.**  $\vec{E} \perp \vec{B}$ ,  $\vec{E} \perp \vec{v}$ ,  $\vec{B} \parallel \vec{v}$ .
- β.**  $\vec{E} \perp \vec{B}$ ,  $\vec{E} \perp \vec{v}$ ,  $\vec{B} \perp \vec{v}$ .
- γ.**  $\vec{E} \parallel \vec{B}$ ,  $\vec{E} \perp \vec{v}$ ,  $\vec{B} \perp \vec{v}$ .
- δ.**  $\vec{E} \parallel \vec{B}$ ,  $\vec{E} \parallel \vec{v}$ ,  $\vec{B} \parallel \vec{v}$ .

**Μονάδες 5**

## ΑΡΧΗ 2ΗΣ ΣΕΛΙΔΑΣ - Α΄ ΕΣΠΕΡΙΩΝ

**A3.** Μονοχρωματική ακτινοβολία προσπίπτει πλάγια στη διαχωριστική επιφάνεια γυαλιού και αέρα προερχόμενη από το γυαλί. Κατά ένα μέρος ανακλάται και κατά ένα μέρος διαθλάται. Τότε :

- α. η γωνία ανάκλασης είναι μεγαλύτερη από τη γωνία πρόσπτωσης.
- β. το μήκος κύματος της ακτινοβολίας στον αέρα μειώνεται.
- γ. η γωνία διάθλασης είναι μεγαλύτερη από τη γωνία πρόσπτωσης.
- δ. η προσπίπτουσα, η διαθλώμενη και η ανακλώμενη ακτίνα δεν βρίσκονται στο ίδιο επίπεδο.

**Μονάδες 5**

**A4.** Στην απλή αρμονική ταλάντωση

- α. η δυναμική ενέργεια παραμένει σταθερή.
- β. η ολική ενέργεια μεταβάλλεται αρμονικά με το χρόνο.
- γ. η ολική ενέργεια παραμένει σταθερή.
- δ. η κινητική ενέργεια παραμένει σταθερή.

**Μονάδες 5**

**A5.** Να γράψετε στο τετράδιό σας το γράμμα κάθε πρότασης και δίπλα σε κάθε γράμμα τη λέξη **Σωστό**, για τη σωστή πρόταση, και τη λέξη **Λάθος**, για τη λανθασμένη.

- α. Τα διαμήκη κύματα διαδίδονται τόσο στα στερεά όσο και στα υγρά και τα αέρια.
- β. Στις ηλεκτρικές ταλαντώσεις το φορτίο του πυκνωτή παραμένει σταθερό.
- γ. Ορισμένοι ραδιενεργοί πυρήνες εκπέμπουν ακτίνες γ.
- δ. Η ροπή αδράνειας είναι διανυσματικό μέγεθος.
- ε. Στην ελαστική κρούση δύο σφαιρών η κινητική ενέργεια του συστήματος ελαττώνεται.

**Μονάδες 5**

**ΘΕΜΑ Β**

**B1.** Στην επιφάνεια ενός υγρού που ηρεμεί βρίσκονται δύο σύγχρονες σημειακές πηγές  $\Pi_1$  και  $\Pi_2$ , που δημιουργούν στην επιφάνεια του υγρού εγκάρσια αρμονικά κύματα πλάτους  $A$ , συχνότητας  $f$  και μήκους κύματος  $\lambda$ . Ένα σημείο  $K$  της επιφάνειας του υγρού ταλαντώνεται με μέγιστο πλάτος  $2A$ . Διπλασιάζουμε τη συχνότητα ταλάντωσης των δύο πηγών. Το σημείο  $K$  ταλαντώνεται τώρα με πλάτος

- α.  $2A$                       β.  $A$                       γ.  $0$

Να επιλέξετε τη σωστή απάντηση (μονάδες 2)

Να δικαιολογήσετε την επιλογή σας (μονάδες 6)

**Μονάδες 8**

**B2.** Ηχητική πηγή εκπέμπει ήχο σταθερής συχνότητας  $f$ . Με μια δεύτερη ηχητική πηγή δημιουργούμε ταυτόχρονα ήχο, τη συχνότητα του οποίου μεταβάλλουμε. Σε αυτήν τη διαδικασία δημιουργούνται διακροτήματα ίδιας συχνότητας για δύο διαφορετικές συχνότητες  $f_1, f_2$  της δεύτερης πηγής.

Η τιμή της  $f$  είναι:

- α.  $\frac{f_1 + f_2}{2}$       β.  $\frac{f_1 f_2}{f_1 + f_2}$       γ.  $\frac{f_2 - f_1}{2}$

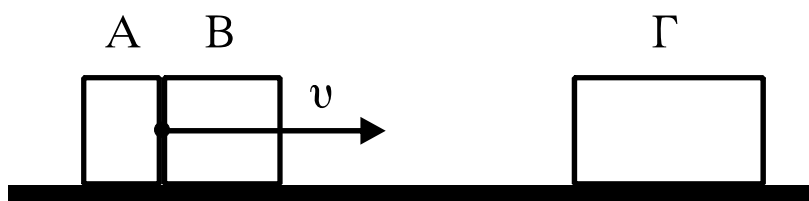
Να επιλέξετε τη σωστή απάντηση (μονάδες 2)

Να δικαιολογήσετε την επιλογή σας (μονάδες 6)

**Μονάδες 8**

**B3.** Δύο σώματα, το  $A$  με μάζα  $m_1$  και το  $B$  με μάζα  $m_2$  είναι διαρκώς σε επαφή και κινούνται σε λείο οριζόντιο επίπεδο με την ίδια ταχύτητα  $v$ . Τα σώματα συγκρούονται κεντρικά με σώμα  $\Gamma$  μάζας  $4m_1$ , το οποίο αρχικά είναι ακίνητο.

ΑΡΧΗ 4ΗΣ ΣΕΛΙΔΑΣ - Α΄ ΕΣΠΕΡΙΝΩΝ



Μετά την κρούση το Α σταματά, ενώ το Β κολλάει στο Γ και το συσσωμάτωμα αυτό κινείται με ταχύτητα  $v/3$ . Τότε θα ισχύει:

α.  $\frac{m_1}{m_2} = 2$       β.  $\frac{m_1}{m_2} = \frac{1}{2}$       γ.  $\frac{m_1}{m_2} = 1$

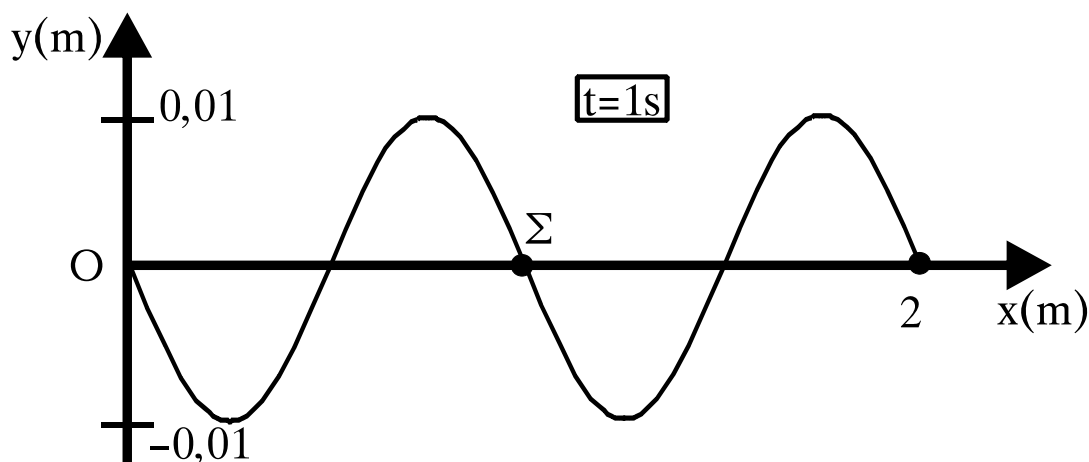
Να επιλέξετε τη σωστή απάντηση (μονάδες 2)

Να δικαιολογήσετε την επιλογή σας (μονάδες 7)

**Μονάδες 9**

**ΘΕΜΑ Γ**

Το άκρο Ο γραμμικού ομογενούς ελαστικού μέσου, που εκτείνεται κατά τη διεύθυνση του ημιάξονα Οx, αρχίζει τη χρονική στιγμή  $t_0=0$  να ταλαντώνεται με θετική ταχύτητα, δημιουργώντας αρμονικό κύμα. Στο σχήμα απεικονίζεται το στιγμιότυπο του κύματος τη χρονική στιγμή  $t=1$  sec.



Γ1. Να βρείτε την ταχύτητα διάδοσης του κύματος  $v$  και το μήκος κύματος  $\lambda$ .

**Μονάδες 6**

Γ2. Να γράψετε την εξίσωση του κύματος.

**Μονάδες 6**

Γ3. Να βρείτε τη μέγιστη ταχύτητα ταλάντωσης των σημείων του μέσου.

**Μονάδες 6**

ΑΡΧΗ 5ΗΣ ΣΕΛΙΔΑΣ - Α΄ ΕΣΠΕΡΙΩΝ

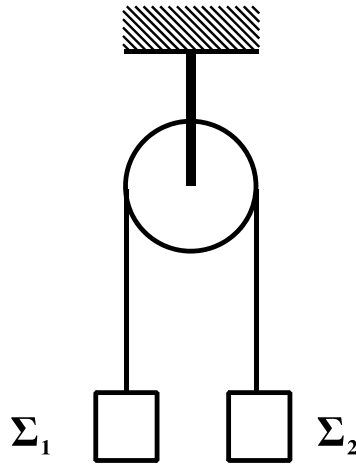
**Γ4.** Να σχεδιάσετε τη γραφική παράσταση της απομάκρυνσης ενός σημείου  $\Sigma$  του ελαστικού μέσου που βρίσκεται στη θέση  $x_{\Sigma}=1$  m, σε συνάρτηση με το χρόνο.

**Να χρησιμοποιήσετε το μιλιμετρέ χαρτί στο τέλος του τετραδίου.**

**Μονάδες 7**

**ΘΕΜΑ Δ**

Η τροχαλία του σχήματος είναι ομογενής με μάζα  $m=4$  kg και ακτίνα  $R=0,5$ m. Τα σώματα  $\Sigma_1$  και  $\Sigma_2$  έχουν μάζες  $m_1=2$  kg και  $m_2=1$  kg αντίστοιχα και βρίσκονται αρχικά ακίνητα στο ίδιο ύψος. Κάποια στιγμή ( $t_0=0$ ) αφήνονται ελεύθερα.



Να βρείτε:

**Δ1.** Το μέτρο της επιτάχυνσης που θα αποκτήσουν τα σώματα  $\Sigma_1$  και  $\Sigma_2$ .

**Μονάδες 7**

**Δ2.** Τα μέτρα των τάσεων των νημάτων.

**Μονάδες 4**

**Δ3.** Το μέτρο της γωνιακής ταχύτητα της τροχαλίας τη στιγμή  $t=2$  s.

**Μονάδες 6**

**Δ4.** Την κινητική ενέργεια του συστήματος, τη στιγμή που το κάθε σώμα έχει μετατοπιστεί κατά  $h=3$  m.

**Μονάδες 8**

Δίνεται:  $g=10\text{m/s}^2$ . Η ροπή αδράνειας της τροχαλίας ως προς άξονα που διέρχεται από το κέντρο της είναι  $I=\frac{1}{2}mR^2$ . Τα νήματα δεν ολισθαίνουν στην τροχαλία.

## ΑΡΧΗ 6ΗΣ ΣΕΛΙΔΑΣ - Λ΄ ΕΣΠΕΡΙΝΩΝ

### ΟΛΗΓΙΕΣ (για τους εξεταζομένους)

1. Στο τετράδιο να γράψετε μόνο τα προκαταρκτικά (ημερομηνία, εξεταζόμενο μάθημα). Να μην αντιγράψετε τα θέματα στο τετράδιο.
2. Να γράψετε το ονοματεπώνυμό σας στο πάνω μέρος των φωτοαντιγράφων αμέσως μόλις σας παραδοθούν. Δεν επιτρέπεται να γράψετε καμιά άλλη σημείωση. Κατά την αποχώρησή σας να παραδώσετε μαζί με το τετράδιο και τα φωτοαντίγραφα.
3. Να απαντήσετε στο τετράδιό σας σε όλα τα θέματα.
4. Να γράψετε τις απαντήσεις σας **μόνο** με μπλε ή **μόνο** με μαύρο στυλό. Μπορείτε να χρησιμοποιήσετε μολύβι μόνο για σχέδια, διαγράμματα και πίνακες.
5. Να χρησιμοποιήσετε το χαρτί μιλιμετρέ στο τέλος του τετραδίου.
6. Κάθε απάντηση επιστημονικά τεκμηριωμένη είναι αποδεκτή.
7. Διάρκεια εξέτασης: τρεις (3) ώρες μετά τη διανομή των φωτοαντιγράφων.
8. Χρόνος δυνατής αποχώρησης: 10.30 π.μ.

**ΚΑΛΗ ΕΠΙΤΥΧΙΑ  
ΤΕΛΟΣ ΜΗΝΥΜΑΤΟΣ**